



# פערים ברמות פיתוח

המגזר השלישוני – מגזר השירותים

# המבנה המגזרי של המשק

- כדי להבין מהי רמת הפיתוח של מדינה ניתן לבדוק כמה אנשים עובדים במדינה ב:

## המגזר הראשוני – חקלאות

- העובדים במגזר זה עובדים בחקלאות, בשדות, ברפת, בלול, בחממות, בדייג. הם מפיקים תוצרת ומשאבי טבע מן היבשה ומן הים

## המגזר השניוני – תעשייה

- העובדים במגזר זה מייצרים מוצרים וסחורות מחומרי גלם. עובדים בתעשייה המסורתית, בתעשייה הכבדה, בתעשיית ההייטק.

## המגזר השלישוני – שירותים

- העובדים במגזר זה עוסקים בפעילויות הקשורות במסחר, בנקאות, ביטוח, מנהל, הובלה, תיירות, בריאות, חינוך, בידור וכדומה. הם לא מייצרים אלא נותנים שירות.





### שירותים ציבוריים:

חינוך – בתי ספר, אוניברסיטאות, גני ילדים  
בריאות – בתי חולים, מרפאות, מעבדות ומכונים  
תחבורה – אוטובוסים, רכבות, רכבת תחתית, מוניות  
שירות  
תקשורת – טלפונים סלולאריים, אינטרנט  
מדיה – תקשורת, טלוויזיה, קולנוע

### שירותים פרטיים:

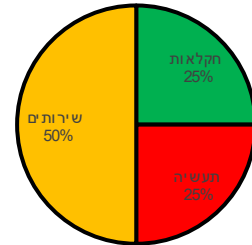
בנקים, ביטוח, עו"ד, רו"ח, מספרות, חנויות, בתי מלון,  
מסעדות, מדריכי טיולים ועוד

אז מה כולל מגזר  
השירותים?

# מה ההבדל ברמת השירותים בין מדינות ברמת פיתוח גבוהה למדינות ברמת פיתוח נמוכה?

## במדינה ברמת פיתוח נמוכה:

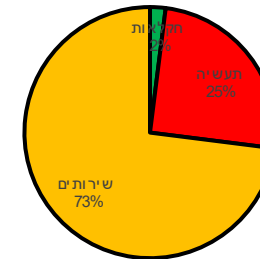
מבנה התעסוקה במשק



כאשר מעט אנשים עובדים  
במגזר השירותים  
השירותים במדינה ברמה נמוכה.

## במדינה ברמת פיתוח גבוהה:

מבנה התעסוקה במשק



כאשר הרבה אנשים עובדים  
במגזר השירותים  
השירותים במדינה ברמה גבוהה.

# כיצד נראים הפערים ברמת השירותים בין מדינות העולם?

**מדינה ברמת פיתוח נמוכה –**

**מדינה מתפתחת:**

מתאפיינת ברמת חיים, רמת השכלה ורמה טכנולוגית נמוכות.

רמת התשתיות והשירותים ירודות, שיעורי הילודה גבוהים, קצב גידול האוכלוסייה מהיר, ותוחלת החיים נמוכה.

**מדינה ברמת פיתוח גבוהה –**

**מדינה מפותחת:**

- מתאפיינת ברמת חיים, רמת השכלה ורמה טכנולוגית גבוהות. במדינה כזאת האוכלוסייה נהנית מתשתיות מתקדמות, ממגוון רחב של שירותים ברמה גבוהה, מחיים ארוכים ומשעורי ילודה נמוכים.



שירותי בראות



# שירותי חינוך



# שירותי תחבורה





# שירותי מסחר

# משימה 1 – הקשר בין תמ"ג לנפש ובין מגזרי התעסוקה

- פתחו את האטלס במפה: כדור הארץ תעסוקה
- התבוננו במדינות השונות ומצאו את הקשר בין גובה המת"ג לנפש לבין מדד מגזרי התעסוקה.
- מלאו את הטבלה לפי המפה

מדינה	מדד תמ"ג לנפש	ציירו את מדד "פיצה" מגזרי התעסוקה
ארצות הברית		
סין		
אתיופיה		
איראן		
ערב הסעודית		
תימן		
מצרים		
ברזיל		

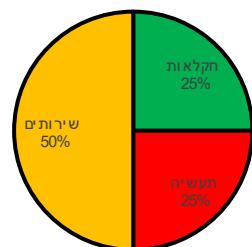
- מה הקשר בין מדד התמ"ג לנפש ובין מדד מגזרי התעסוקה? נסחו משפט מסכם.

כשהתמ"ג לנפש \_\_\_\_\_ מספר המועסקים בחקלאות \_\_\_\_\_,  
התעשייה היא \_\_\_\_\_ ורמת השירותים \_\_\_\_\_

# מה הקשר בין רמת הפיתוח והמבנה המגזרי של המשק?

## במדינה ברמת פיתוח נמוכה:

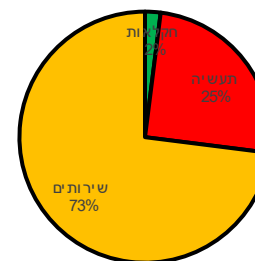
מבנה התעסוקה במשק



כאשר הרבה אנשים עובדים בחקלאות ללא מכונות והתעשייה היא תעשייה מסורתית בטכנולוגיה נמוכה רמת הפיתוח של המדינה נמוכה

## במדינה ברמת פיתוח גבוהה:

מבנה התעסוקה במשק



כאשר מעט אנשים עובדים בחקלאות בעזרת מכונות ומו"פ והתעשייה משתמשת בטכנולוגיה גבוהה רמת הפיתוח של המדינה גבוהה

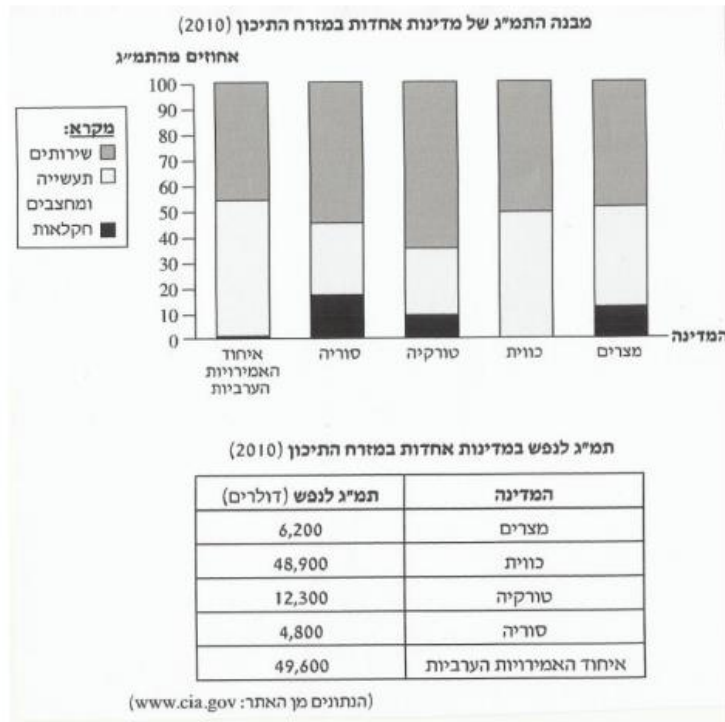
# מדדים שהכרנו ביחידות 1-3:

תמ"ג, תמ"ג לנפש, צריכת אנרגיה  
המבנה המגזרי של המועסקים במשק

# משימה לסיכום

## שאלה 5 - כלכלה וגלובליזציה

- לפניך נתוני תמ"ג (תוצר מקומי גולמי) של מדינות אחדות במזה"ת
- מיין את המדינות שלפניך לשתי קבוצות על פי רמתן הכלכלית: ציין מהי הרמה הכלכלית של כל קבוצה.
  - כתוב שני נימוקים למיון המדינות על סמך נתוני תרשים העמודות, והטבלה.



- הצג סיבה אחת לקשיים של מדינות המזה"ת להשתלב בכלכלה הגלובלית. ציין יתרון אחד להשתלבות המדינות בכלכלה הגלובלית.

## שאלה 6 - הבדלים בין מדינות מבחינה כלכלית

- לפניך נתונים כלכליים של שתי מדינות – מצריים וערב הסעודית.
- רשום איזו מדינה מצויה ברמה כלכלית גבוהה יותר: מדינה מספר 1 או מדינה מספר 2?
- כתוב מיהי מדינה מספר 1, ומיהי מדינה מספר 2 – נמק קביעתך בעזרת שני מדדים שבטבלה

מדדים	מדינה 1	מדינה 2
מועסקים בחקלאות	32%	6.7%
טלפונים ניידים ל-1000 נפש	100	500
מועסקים בשירותים	51%	71.9%
קשר לאינטרנט – ל-1000 נפש	50	150

# סיימתם את יחידה מספר 4!!!



## יחידה 4: פערים ברמת פיתוח המגזר השלישוני

### מה היה לנו?

- מרכיבי מדד מגזרי התעסוקה
- מה כולל מגזר השירותים
- תמונות להשוואה בין שירותים ברמת פיתוח גבוהה ורמת פיתוח נמוכה
- משימה 1 – הקשר בין תמ"ג לנפש ומדד מגזר המועסקים
- חיבור לידע קודם – מה הקשר בין רמת הפיתוח והמבנה המגזרי של המשק
- משימה לסיכום כל המדדים שהכרנו עד כה במצגות 1-4